

LE CARTINE GEO-STORICHE

Fino ad ora abbiamo visto le caratteristiche delle cartine geografiche relative all'Italia. Osserviamo ora questa cartina

Aree di espansione dei popoli della Mesopotamia



Questa cartina si chiama **CARTA GEO-STORICA**. Le carte geo storiche sono speciali: sono carte geografiche che ci mostrano **che cosa** accadde e **quando**, ma anche **dove** accadde, **chi** partecipò a quell'evento storico o di **quale** evento si tratta.

Il titolo della carta ci dice che cosa essa rappresenta; la **legenda** ci spiega il significato dei colori o dei simboli usati nella carta.

Queste cartine uniscono Storia e Geografia, il tempo e lo spazio. I luoghi, infatti, sono molto importanti per capire la storia dei popoli che studiamo:

- Dove vivevano: in riva al mare, lungo un fiume o sulle montagne?
 - Quali risorse offrivano quei territori? Acqua, legno, metalli?

Ogni **ambiente** ha un **effetto** molto diverso **sulla vita degli uomini**, sui lavori che essi svolgono, sulla loro società.

La carta geo storica ci fa «vedere» anche com'era un certo luogo della Terra nel passato oppure che cosa accadde **contemporaneamente**, cioè nello stesso momento, in luoghi differenti.

IN SINTESI:

www.giochicolori.it

IN SINTESI

- Le **carte geostoriche** ci mostrano **dove** e **quando** sono accaduti gli eventi storici.
- La **legenda** spiega il significato dei simboli e dei colori usati nella carta.

Sottolinea nel testo le risposte alle seguenti domande.

- Che cosa sono le carte geostoriche? (ROSSO)
- Che cos'è la legenda? (VERDE)
- Le carte geostoriche uniscono due diverse scienze: quali? (BLU)

Osserva la cartina a lato, poi rispondi alle domande.

- Qual è il titolo di questa carta geostorica?

- Qual è la sua legenda?

- Quali terre e popoli sono rappresentati?

- Con quali segni e colori?

- Quale regno raggiunse la più grande espansione? Quando?

- Che cosa indicano i cerchietti rossi?

Osserva queste carte geo-storiche e rifletti: quali informazioni ci danno sulle varie civiltà?

COSA SIGNIFICA?

IMPORTARE:

ESPORTARE:


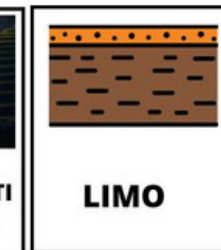





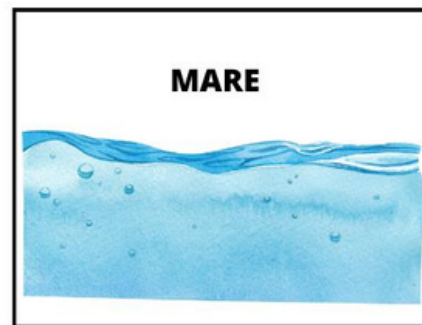



Che cosa vuole rappresentare questa carta geo-storica?
Da cosa lo capisci?

A quale civiltà antica si riferisce questa carta geo-storica?

Che cosa vuole rappresentare?





TERRITORIO E RISORSE ECONOMICHE

Osservando gli ambienti geografici in cui le ANTICHE CIVILTÀ' si sono sviluppate, possiamo immaginare quali potessero essere le **RICCHEZZE NATURALI E LE RISORSE ECONOMICHE** che il territorio poteva offrire. Questo schema potrà servirci anche in futuro a riconoscerle senza fatica per qualsiasi civiltà studiata.

www.giochicolori.it

montagna

MARE

PIANURA

--	--	--

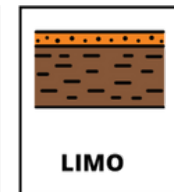


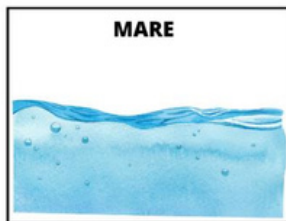

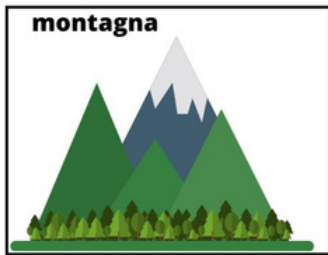
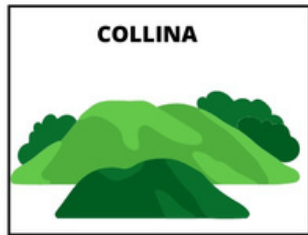
Incolla le immagini al posto giusto

www.giochicolori.it

COLLINA

FIUME

soluzione

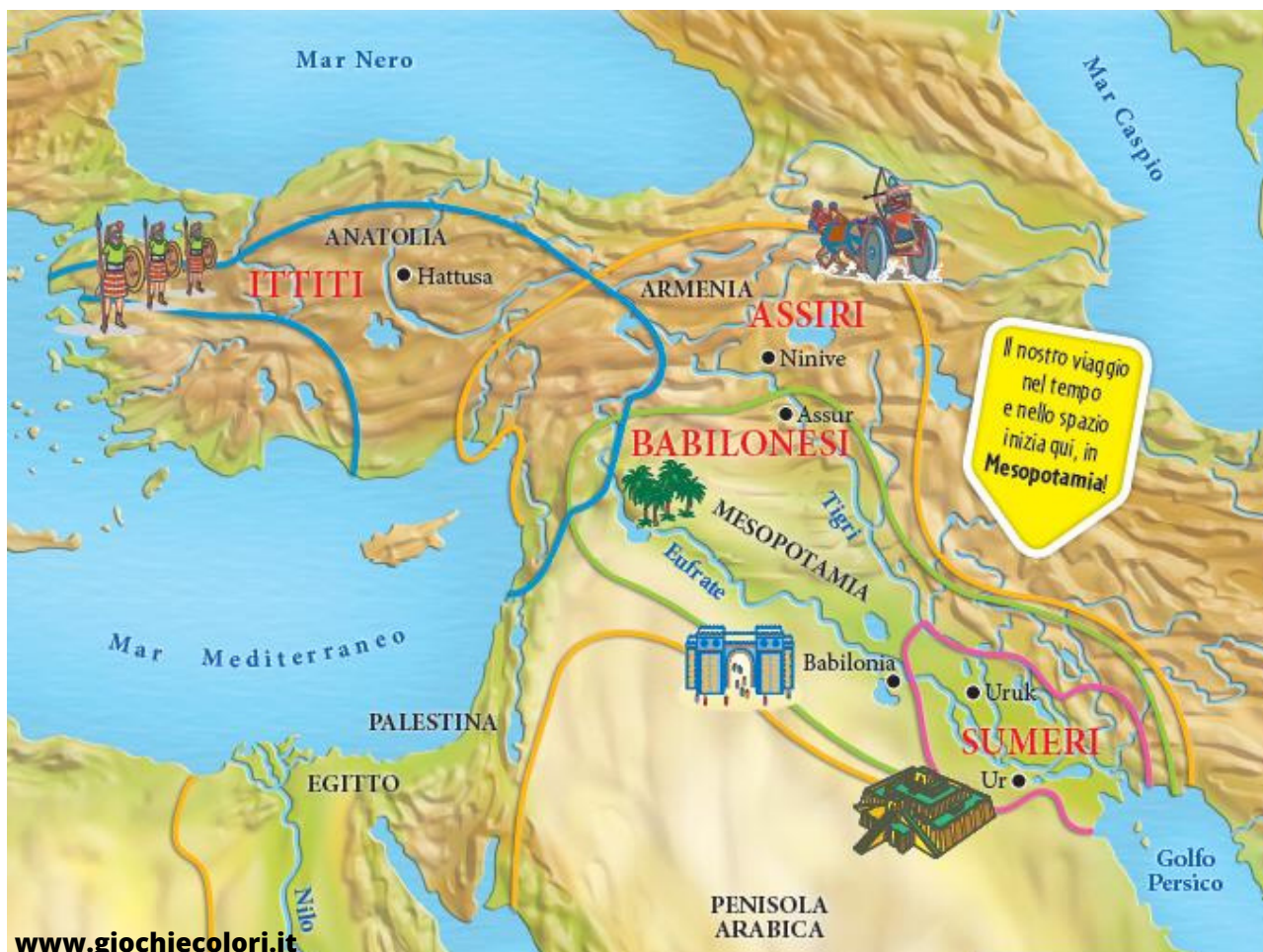


RICAVIAMO INFORMAZIONI DALLE CARTE GEO-STORICHE






ORA CHE ABBIAMO SCOPERTO ASSIEME COME IL TERRITORIO INFLUENZI LE RISORSE NATURALI ED ECONOMICHE DI UNA CIVILTÀ, OSSERVIAMO ATTENTAMENTE LE CARTE E FACCIAMO DELLE IPOTESI. VERIFICA POI SE LE TUE IPOTESI SONO CORRETTE CONSULTANDO IL LIBRO.

Osserva la cartina delle civiltà fluviali e scopri tutte le informazioni che si possono ricavare.

www.giochicolori.it



Legenda cartina fisica:

 PIANURA	 MONTAGNE	 LE CITTA' PRINCIPALI
 DESERTO	 FIUMI E MARI	

La vita sociale ed economica dell'uomo da cosa è principalmente condizionata?

- DAL CLIMA
- DALLE CARATTERISTICHE NATURALI DEL LUOGO IN CUI VIVONO
- DAL CLIMA E DALLE CARATTERISTICHE NATURALI DEL LUOGO IN CUI VIVONO. **In**

quali ambienti naturali si sviluppò la CIVILTÀ EGIZIA?

- MARE - FIUME - DESERTO - COLLINA - MONTAGNA - PIANURA

Quale fiume scorreva lungo il loro territorio?

EGIZI E ITTITI

www.giochicolori.it

• PER OGNI AMBIENTE HAI INCOLLATO LE IMMAGINI DELLE RISORSE NATURALI ED ECONOMICHE CHE SI POSSONO SFRUTTARE. SAPRESTI FARE UNA IPOTESI SU QUELLE DEGLI **ANTICHI EGIZI**?

• GLI ANTICHI EGIZI, SECONDO TE, COSTRUIVANO E USAVANO IMBARCAZIONI?

SÌ - NO

• DA COSA LO POTRESTI IMMAGINARE?

• SE HAI RISPOSTO SÌ, QUALE POTEVA ESSERE IL LORO USO?

• PUR PRATICANDO L'AGRICOLTURA, IN BASE ALLA TUA RISPOSTA QUALI POTEVANO ESSERE LE RISORSE ECONOMICHE PIÙ IMPORTANTI?

• Osserva ora il territorio occupato dagli **ITTITI**, era prevalentemente:

DESERTICO - MONTUOSO - PIANEGGIANTE

• SECONDO TE GLI ITTITI POTEVANO ESSERE ANCHE BRAVI ARTIGIANI? (OSSERVA L'IMMAGINE PRESENTE NELLA CARTINA)

SÌ NO

• ATTRAVERSO QUALI MARI POTEVANO AVVENIRE GLI SCAMBI COMMERCIALI DELLA CIVILTÀ ITTITA?

• GLI ITTITI, SECONDO TE, POTEVANO ESSERE ANCHE BRAVI ARTIGIANI? (osserva la cartina)

SÌ NO

PENSANDO AL LORO TERRITORIO, COSA AVREBBERO POTUTO FABBRICARE?

SUMERI, BABILONESI e ASSIRI

www.giochicolori.it

- QUALI FIUMI BAGNAVANO I TERRITORI DELLA CIVILTÀ SUMERA E DELLA CIVILTÀ BABILONESE?

- QUALI ERANO LE CITTÀ PIÙ IMPORTANTI DELLA MESOPOTAMIA? (SUMERI, BABILONESI, ASSIRI)

- OSSERVA IL TERRITORIO GEOGRAFICO DELLA CIVILTÀ SUMERA, QUALI POTEVANO ESSERE LE PRINCIPALI RISORSE ECONOMICHE DI QUESTO POPOLO?

- LE CIVILTÀ FLUVIALI SI CHIAMANO COSÌ PERCHÉ I FIUMI ERANO IMPORTANTISSIMI PER LA VITA DI QUESTO POPOLO.

QUALI VANTAGGI POTEVANO TRARRE QUESTI POPOLI DAL FIUME? QUALI ATTIVITÀ ECONOMICHE SI POTEVANO RICAVARE?

- OSSERVA IL CARRO ASSIRO PRESENTE SULLA CARTINA. SECONDO TE VENIVA USATO PER LA GUERRA O PER L'AGRICOLTURA?

- QUALI PARTICOLARI DEL DISEGNO TI FANNO PENSARE COSÌ?



Attribuzione-Non commerciale 4.0 internazionale (CC BY NC 4.0)

Questo è un riepilogo leggibile dall'uomo di (e non un sostituto per) la [licenza](#) . [Dichiarazione di non responsabilità](#) .

Sei libero di:

Condividi : copia e ridistribuisci il materiale in qualsiasi supporto o formato

Adatta : remixa, trasforma e costruisci sul materiale

Il licenziante non può revocare queste libertà fintanto che segui i termini della licenza.

Ai seguenti termini:



Attribuzione : devi dare [un credito appropriato](#) , fornire un collegamento alla licenza e [indicare se sono state apportate modifiche](#) . Puoi farlo in qualsiasi modo ragionevole, ma non in alcun modo che suggerisca che il licenziante approvi te o il tuo utilizzo.



Non commerciale : non puoi utilizzare il materiale per [scopi commerciali](#) .

Nessuna restrizione aggiuntiva : non puoi applicare termini legali o [misure tecnologiche](#) che impediscano legalmente ad altri di fare qualsiasi cosa la licenza consenta.

Avvisi:

Non sei tenuto a rispettare la licenza per elementi del materiale di dominio pubblico o laddove il tuo utilizzo sia consentito da un'eccezione [o limitazione](#) applicabile .

Non vengono fornite garanzie. La licenza potrebbe non fornire tutte le autorizzazioni necessarie per l'uso previsto. Ad esempio, altri diritti come [pubblicità](#), [privacy](#) o [diritti morali](#) possono limitare il modo in cui utilizzi il materiale.



Maestro Fabio
www.giochiecolori.it